
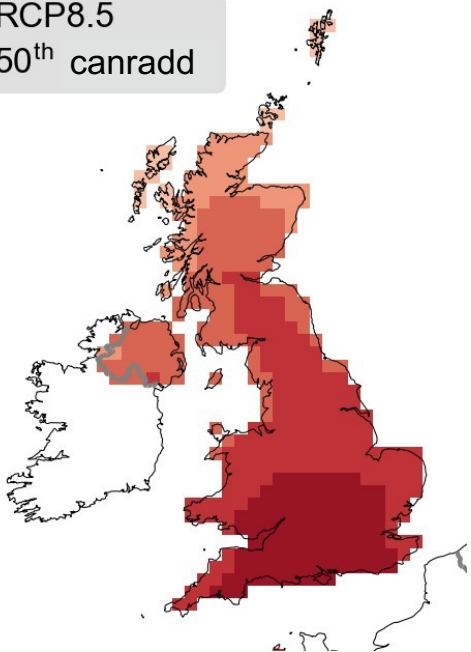




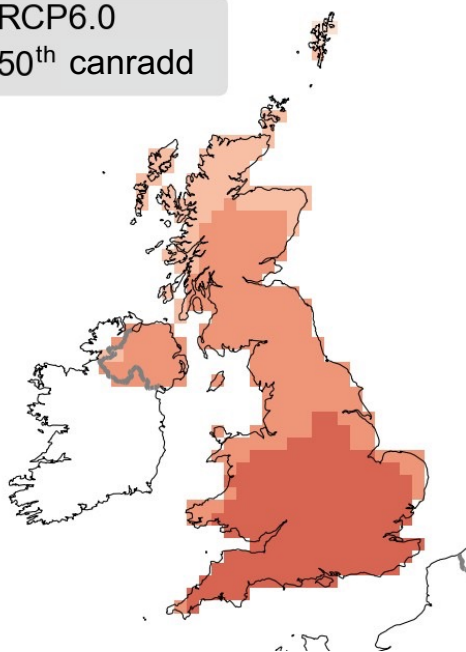
Dehongli modelau hinsawdd



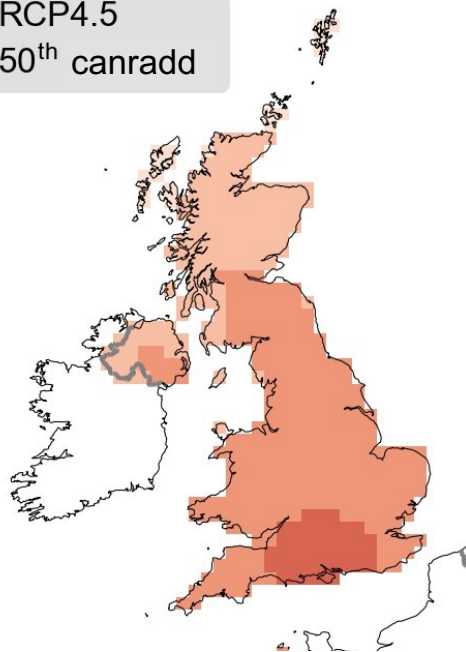
RCP8.5
50th canradd



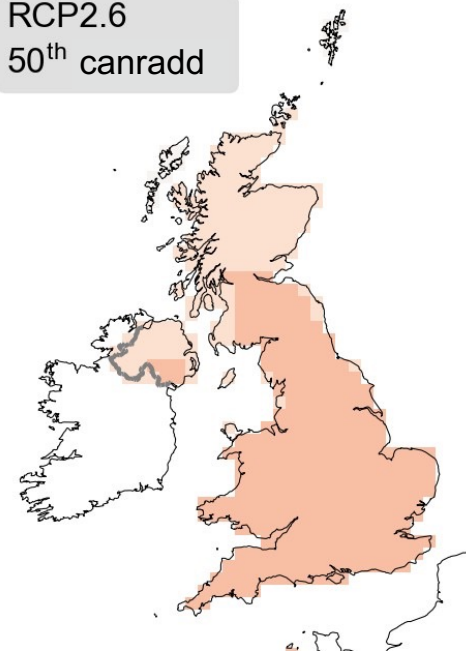
RCP6.0
50th canradd



RCP4.5
50th canradd



RCP2.6
50th canradd

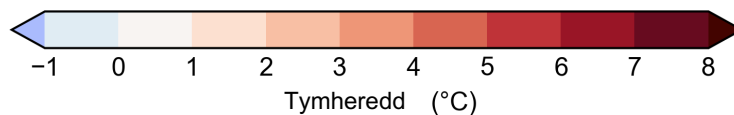


Senario 1: allyriadau yn parhau i godi drwy weddill y ganrif hon ('senario waeth haf')

Senario 2: uchafbwynt allyriadau tua 2080 ac yna'n gostwng drwy weddill y ganrif hon

Senario 3: uchafbwynt allyriadau tua 2040 ac yna'n gostwng drwy weddill y ganrif hon

Senario 4: allyriadau CO2 yn dechrau gostwng erbyn 2020 ac yn mynd i sero erbyn 2100 ('senario achos gorau')



Cwestiynau

- A oes gwahaniaeth yn hinsawdd y DU erbyn diwedd y ganrif hon yn dibynnu ar ba senario y maent yn ei ystyried?
- Os felly, sut olwg sydd ar y gwahaniaeth hwn?
- Beth allai effeithiau'r newidiadau hyn fod?
- Ym mha DU yn y dyfodol yr hoffent fyw a pham?

Rhagor o wybodaeth yma:
www.metoffice.gov.uk/schools

